

Самостоятельная работа к урокам 1-3

1) Дорисуй и запиши ответ:

$$\triangle \cdot + \triangle \triangle \ddots =$$

$$13 + 27 = \square$$

2)


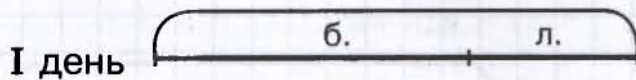
$$\begin{array}{r} 34 \\ + 46 \\ \hline \square \\ \square \end{array}$$

$$\begin{array}{r} 72 \\ + 18 \\ \hline \square \\ \square \end{array}$$

$$\begin{array}{r} 25 \\ + 53 \\ \hline \square \\ \square \end{array}$$

$$\begin{array}{r} 89 \\ - 61 \\ \hline \square \\ \square \end{array}$$

3) Ребята сажали в школьном парке берёзы и липы. В первый день они посадили 23 берёзы и 17 лип, во второй день – 12 берёз и 30 лип. Заполни схему и ответь на вопросы:



1) Сколько всего берёз посадили за два дня?

2) Сколько деревьев посадили во второй день?

3) Сколько деревьев посадили в первый день?

4) На сколько больше берёз было посажено в первый день, чем во второй?

Вперёд, к победе!



4) [★] Заполни пропуски:


$$\begin{array}{r} 2. \\ \cdot 7 \\ \hline 38 \end{array}$$

$$\begin{array}{r} 1. \\ \cdot 3 \\ \hline 50 \end{array}$$

5) [★] Продолжи ряд:

7, 67, 567, _____

Работа над ошибками



Самостоятельная работа к урокам 4-6


1) Дорисуй и запиши ответ:

$$\triangle \triangle \triangle - \triangle \dots = \underline{\hspace{2cm}}$$

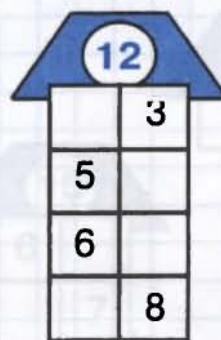
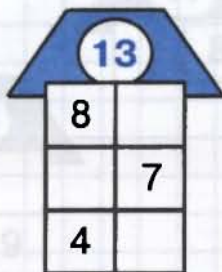
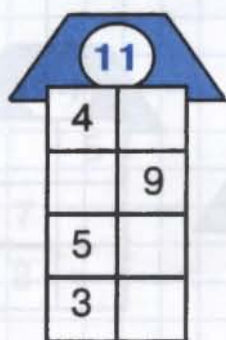
$$30 - 16 = \square$$

2)
$$\begin{array}{r} 60 \\ - 48 \\ \hline \end{array} \quad \begin{array}{r} 90 \\ - 77 \\ \hline \end{array} \quad \begin{array}{r} 50 \\ - 75 \\ \hline \end{array} \quad \begin{array}{r} 22 \\ + 58 \\ \hline \end{array}$$

3) У Чебурашки было 8 зелёных и 9 красных шариков. Из них 10 шариков он подарил Гене. Сколько шариков у него осталось?



4) Засели домики:



Красна птица оперением, а человек - умением!

